

校長先生からの挑戦状 ⑥

<ルール>

〇都道府県のもんだいです。地図帳で調べましょう。

〇形を見て、都道府県の名前と都道府県庁所在地の名前を答えましょう。

①



()県 ()市 ()県 ()市 ()県 ()市 ()県 ()市

②



()県 ()市

③



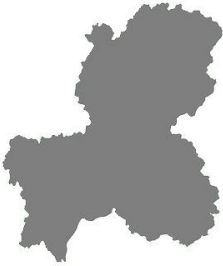
()県 ()市

④



()県 ()市

⑤



()県 ()市

⑥



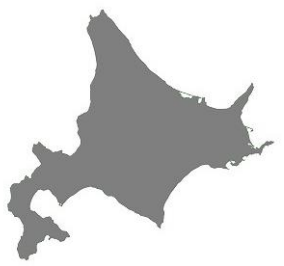
()県 ()市

⑦



()県 ()市

⑧



()県 ()市

⑨



()県 ()市

⑩



()県 ()市

⑪



()県 ()市

⑫



()県 ()市

⑬




()県 ()市

⑭



()県 ()市

⑮



()県 ()市

⑯



()県 ()市

()県 ()市 ()県 ()市 ()県 ()市 ()県 ()市