

校長先生からの挑戦状 ①

<ルール>

○都道府県のもんだいです。ちずちょう地図帳で調べましょう。

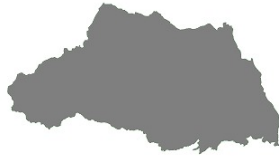
○形を見て、都道府県の名前と都道府県庁所在地の名前を答えましょう。

①



()県
()市

②



()県
()市

③



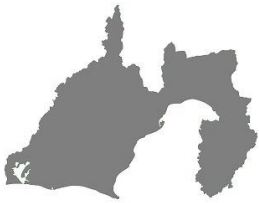
()県
()市

④



()県
()市

⑤



()県
()市

⑥



()県
()市

⑦



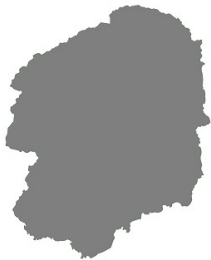
()県
()市

⑧



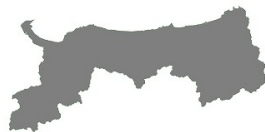
()県
()都

⑨



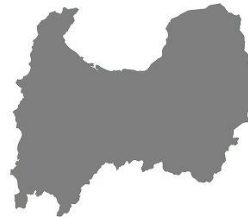
()県
()市

⑩



()県
()市

⑪



()県
()市

⑫



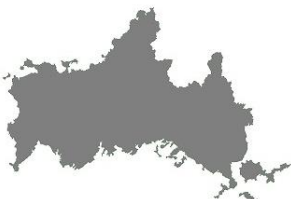
()県
()市

⑬



()県
()市

⑭



()県
()市

⑮



()県
()市