

校長先生からの挑戦状 ちょうせんじょう ②





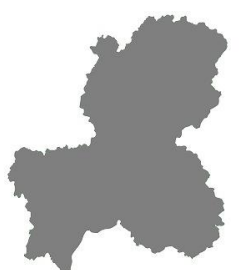


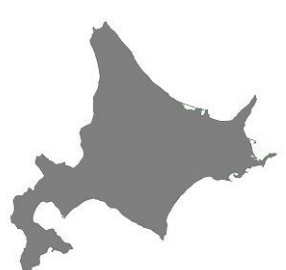
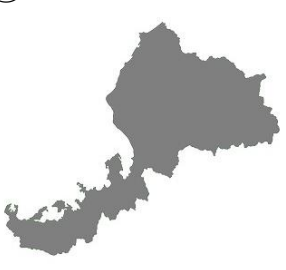
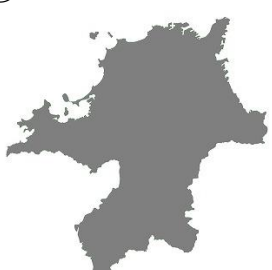






年 組 _____

月 日 _____

<ルール>

〇都道府県のもんだいです。とどうふけん 地図帳で調べましょう。ちずちょう

〇形を見て、都道府県の名前と都道府県庁所在地の名前を答えましょう。とどうふけん とどうふけんちょうしよざいち

①	②	③	④
			
()県 ()市	()県 ()市	()県 ()市	()県 ()市
⑤	⑥	⑦	⑧
			
()県 ()市	()県 ()市	()県 ()市	()道 ()市
⑨	⑩	⑪	⑫
			
()県 ()市	()県 ()市	()県 ()市	()県 ()市
⑬	⑭	⑮	⑯
			
()県 ()市	()県 ()市	()県 ()市	()県 ()市