

# 校長先生からの挑戦状

ちょうせんじょう

3















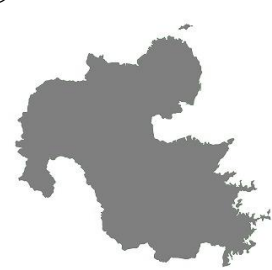

年 組

月 日

<ルール>

〇都道府県のもんだいです。ちずちょう 地図帳で調べましょう。

〇形を見て、都道府県の名前と都道府県庁所在地の名前を答えましょう。

①	②	③	④
			
( )県	( )県	( )県	( )県
( )市	( )市	( )市	( )市
⑤	⑥	⑦	⑧
			
( )府	( )県	( )県	( )県
( )市	( )市	( )市	( )市
⑨	⑩	⑪	⑫
			
( )県	( )県	( )県	( )県
( )市	( )市	( )市	( )市
⑬	⑭	⑮	⑯
			
( )県	( )県	( )県	( )府
( )市	( )市	( )市	( )市