

動物のなかま

1 ア～カの動物について、その特徴を調べて分類しました。

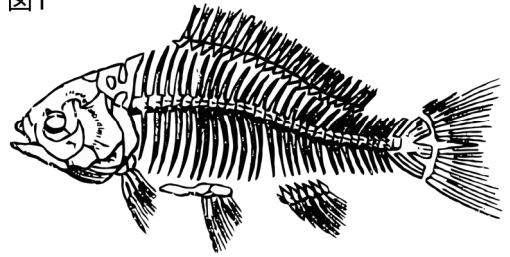
- | | |
|-------|---------|
| ア カエル | イ カブトムシ |
| ウ ヘビ | エ イカ |
| オ ハト | カ イルカ |

(1) ア～カの動物は、ある骨格があるかないかで、大きく2つのなかまに分けることができます。この骨をなんといいますか。

()

(2) 図1は、魚の骨格のスケッチです。図の中の(1)の骨を黒くぬりつぶしなさい。

図1



(3) (1)の骨をもたないなかまを何といいますか。

()

(4) (3)のなかまを、上のア～カからすべて選びなさい。

()

(5) 魚は、水中に卵をうみます。このようなうまれ方を何といいますか。

()

(6) アのカエルは、親と子で呼吸のしかたがことなります。それぞれ何呼吸を行いますか。

親 () 子 ()

(7) カエルのなかまを、何類といいますか。

()

(8) カのイルカは、どのようにして子をうみますか。また、うまれた子をどのようにして育てますか。簡単に説明しなさい。

()

(9) エのイカは、(1)の骨をもたないなかまの中の何動物のなかまに分類されますか。

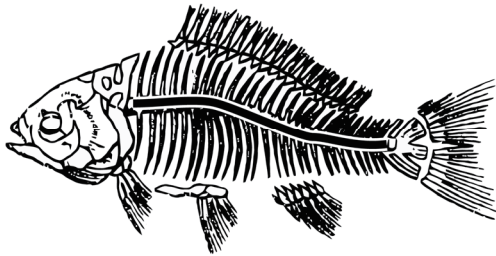
()

組 番 名前

かかった時間 正解数

分

- 1** (1) 背骨 (セキツイ)
(2)



- (3) 無セキツイ動物
(4) イ, エ
(5) 卵生
(6) 親 肺呼吸 (皮ふ呼吸)
子 えら呼吸
(7) 両生類
(8) 母親の体内である程度育ててからうむ。そして、うまれた子には乳を与えて育てる。
(9) 軟体動物

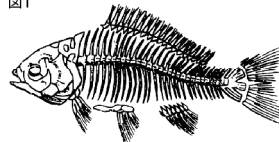
間違った問題を確認してみよう！

1 ア～カの動物について、その特徴を調べて分類しました。

ア カエル	イ カブトムシ
ウ ヘビ	エ イカ
オ ハト	カ イルカ

(1) ア～カの動物は、ある骨格があるかないかで、大きく2つのなかまに分けることができます。この骨をなんといいますか。
()

図1



(2) 図1は、魚の骨格のスケッチです。図の中の(1)の骨を黒くぬりつぶさない。

(3) (1)の骨をもたないなかまを何といいますか。
()

(4) (3)のなかまを、上のア～カからすべて選びなさい。
()

(5) 魚は、水中に卵をうみます。このようなうまれ方を何といいますか。
()

(6) アのカエルは、親と子で呼吸のしかたが異なります。それぞれ何呼吸を行いますか。
親 () 子 ()

(7) カエルのなかまを、何類といいますか。
()

(8) カのイルカは、どのようにして子をうみますか。また、うまれた子をどのようにして育てますか。簡単に説明しなさい。
()

(9) エのイカは、(1)の骨をもたないなかまの中の何動物のなかまに分類されますか。
()