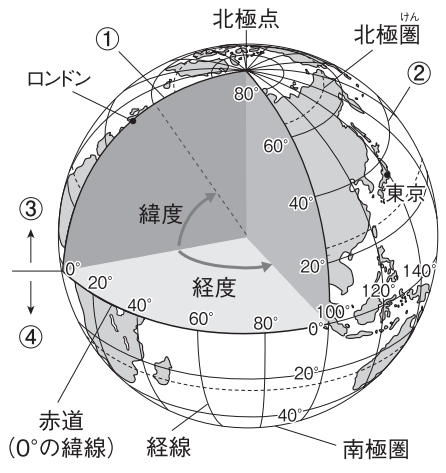


社会

地球，そのすがた

1 次の地図を見て，各問いに答えなさい。



(1) 地図中の①～④にあてはまる語句を□から選んで答えなさい。

- いせん 緯線，北半球，南半球，本初子午線

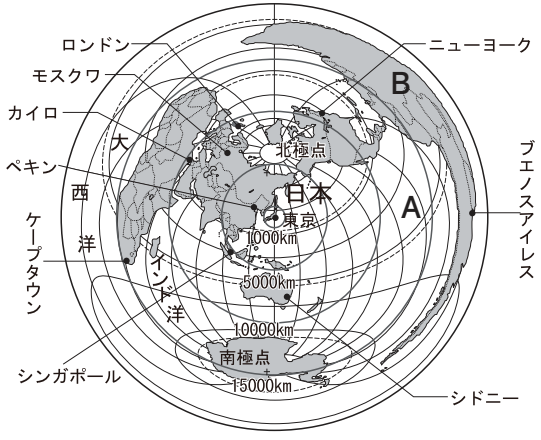
① () ② ()

③ () ④ ()

(2) 地図中のロンドンと東京のおよその経度の差は，何度ですか。次のア～エから一つ選び，記号で答えなさい。

- ア 60度 イ 100度 ウ 140度 エ 180度
- ()

2 次の地図は，中心からの方位と距離が正しい地図です。この地図を見て，各問いに答えなさい。



(1) 東京から見ると，シドニーは，どの方位にありますか。次のア～エから一つ選び，記号で答えなさい。

- ア 東 イ 西 ウ 南 エ 北
- ()

(2) 東京から見ると，ロンドンは何の方位にありますか。次のア～エから一つ選び，記号で答えなさい。

- ア 北東 イ 北西 ウ 南東 エ 南西
- ()

(3) 地図にある都市のうち，東京から最も遠い都市名を答えなさい。

()

(4) 地図中のAにあてはまる海洋名を答えなさい。

()

(5) 地図中のBにあてはまる大陸名を答えなさい。

()

組 番 名前

かかった時間 正解数
分

1 (1)① 本初子午線 ② 緯線 ③ 北半球 ④ 南半球

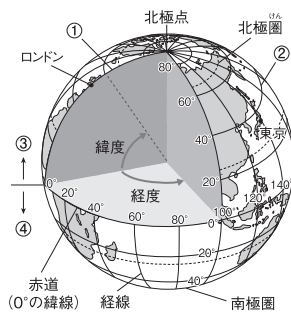
(2) ウ

2 (1) ウ (2) イ (3) ブエノスアイレス (4) 太平洋

(5) 南アメリカ大陸

間違った問題を確認してみよう！

1 次の地図を見て、各問いに答えなさい。



(1) 地図中の①～④にあてはまる語句を□から選んで答えなさい。

- | |
|-------------------------------|
| いせん 緯線, 北半球, 南半球, 本初子午線 |
|-------------------------------|

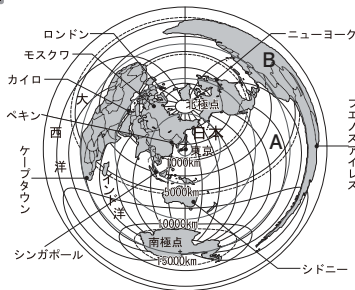
① () ② ()

③ () ④ ()

(2) 地図中のロンドンと東京のおよその経度の差は、何度ですか。次のア～エから一つ選び、記号で答えなさい。

ア 60度 イ 100度 ウ 140度 エ 180度
()

2 次の地図は、中心からの方位と距離が正しい地図です。この地図を見て、各問いに答えなさい。



(1) 東京から見ると、シドニーは、どの方位にありますか。次のア～エから一つ選び、記号で答えなさい。

ア 東 イ 西 ウ 南 エ 北
()

(2) 東京から見ると、ロンドンはどの方位にありますか。次のア～エから一つ選び、記号で答えなさい。

ア 北東 イ 北西 ウ 南東 エ 南西
()

(3) 地図にある都市のうち、東京から最も遠い都市名を答えなさい。

()

(4) 地図中のAにあてはまる海洋名を答えなさい。

()

(5) 地図中のBにあてはまる大陸名を答えなさい。

()