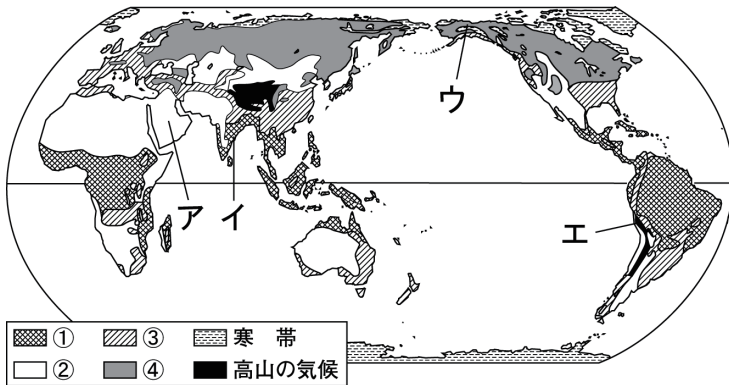


世界各地の人々の生活と環境 (1)

1 次の地図を見て、各問いに答えなさい。



(1) 地図中の①～④にあてはまる気候帯を、次の□からそれぞれ選んで答えなさい。

かんそう 乾燥帯, 温帯, 熱帯, 冷帯 (亜寒帯)

- ① ()
- ② ()
- ③ ()
- ④ ()

(2) 温帯と冷帯 (亜寒帯) について述べている文を、次のア～エからそれぞれ一つずつ選び、記号で答えなさい。

- ア 一年中気温が高い。
- イ 雨がほとんど降らず、樹木が育たない。
- ウ 四季の変化がはっきりしている。
- エ 冬の寒さが厳しく、北半球にだけ分布する。


温帯 () 冷帯 (亜寒帯) ()

(3) 乾燥した地域に見られる住居を、次のア～ウから一つ選び、記号で答えなさい。


ア

イ


ウ



暑さを避ける高床式の家



土を固めた日干しれんがの家



豊かな木材を使ったログハウス

()

(4) 右の図のような衣服が見られる地域を、地図中のア～エから一つ選び、記号で答えなさい。また、このような衣服をつくるのに利用される、この地域に見られる動物の名称を次のア～エから一つ選び、記号で答えなさい。

- ア カンガルー イ カリブー
- ウ アルパカ エ アザラシ

地域 () 動物 ()



組 番 名前

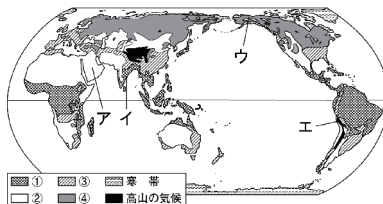
かかった時間 正解数

分

- 1** (1) ① 熱帯 ② 乾燥帯 ③ 温帯 ④ 冷帯 (亜寒帯)
 (2) 温帯 ウ 冷帯 (亜寒帯) エ
 (3) イ
 (4) 地域 エ 動物 ウ

間違った問題を確認してみよう!

1 次の地図を見て、各問いに答えなさい。



(1) 地図中の①～④にあてはまる気候帯を、次の□からそれぞれ選んで答えなさい。

かんきょう
乾燥帯、温帯、熱帯、冷帯 (亜寒帯)

- ① ()
 ② ()
 ③ ()
 ④ ()

(2) 温帯と冷帯 (亜寒帯) について述べている文を、次のア～エからそれぞれ一つずつ選び、記号で答えなさい。

- ア 一年中気温が高い。
 イ 雨がほとんど降らず、樹木が育たない。
 ウ 四季の変化がはっきりしている。
 エ 冬の寒さが厳しく、北半球にだけ分布する。

温帯 () 冷帯 (亜寒帯) ()

(3) 乾燥した地域に見られる住居を、次のア～ウから一つ選び、記号で答えなさい。

ア

イ

ウ



暑さを避ける高床式の家



土を固めた日干しれんがの家



豊かな木材を使ったログハウス

()

(4) 右の図のような衣服が見られる地域を、地図中のア～エから一つ選び、記号で答えなさい。また、このような衣服をつくるのに利用される、この地域に見られる動物の名称を次のア～エから一つ選び、記号で答えなさい。

- ア カンガルー イ カリブー
 ウ アルパカ エ アザラシ

地域 () 動物 ()

