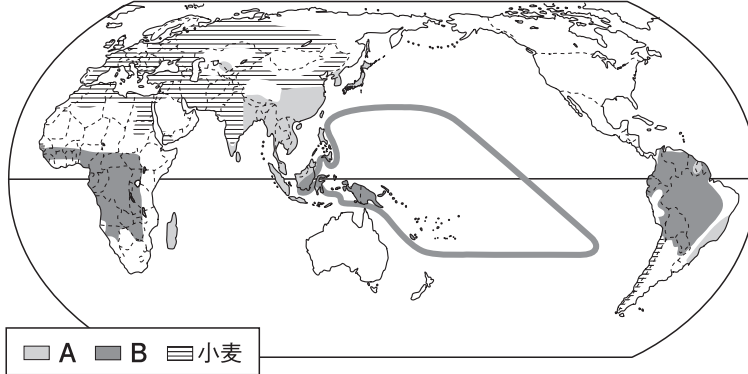


1 次の地図を見て、各問いに答えなさい。



(1) 地図中のA・Bの地域でもみに食べられている主食となる作物は何か、次の□からそれぞれ選んで答えなさい。

米, とうもろこし, いも類, 肉と乳

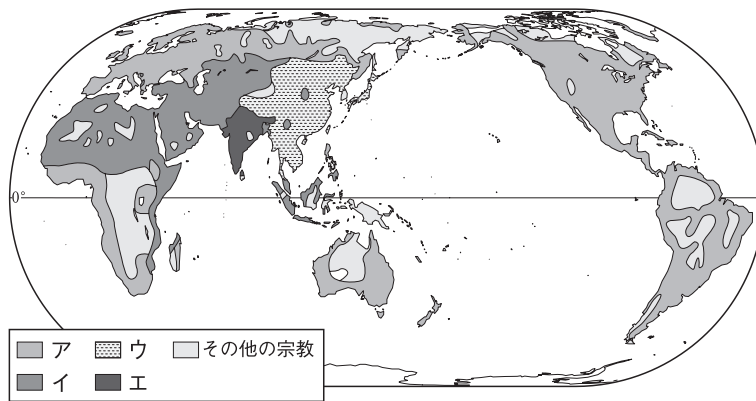
A () B ()

(2) 小麦について述べた文を次のア～ウから一つ選び、記号で答えなさい。

- ア アジアを中心に、高温多雨な地域で栽培される。
- イ 中南アメリカが原産地とされ、温暖多雨な気候の地域で栽培される。
- ウ 寒さや乾燥に強く、世界で広く栽培される。

()

2 次の地図を見て、各問いに答えなさい。



(ディルケ世界地図 2010 年版ほかより)

(1) イスラム教の分布を示すものを、地図中のア～エから一つ選び、記号で答えなさい。

()

(3) 1世紀初めごろに開かれ、現在では世界で最も多くの人々が信仰しているとされる、クリスマスなどの行事がある宗教を答えなさい。

()

組 番 名前

かかった時間 正解数

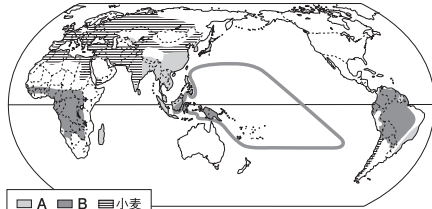
分

- 1** (1) A 米 B いも類
(2) ウ

- 2** (1) イ (2) キリスト教

間違った問題を確認してみよう！

1 次の地図を見て、各問いに答えなさい。



(1) 地図中のA・Bの地域でおもに食べられている主食となる作物は何か、次の□からそれぞれ選んで答えなさい。

米, とうもろこし, いも類, 肉と乳

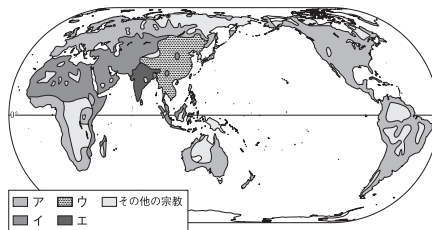
A () B ()

(2) 小麦について述べた文を次のア～ウから一つ選び、記号で答えなさい。

- ア アジアを中心に、高温多雨な地域で栽培される。
- イ 中南アメリカが原産地とされ、温暖多雨な気候の地域で栽培される。
- ウ 寒さや乾燥に強く、世界で広く栽培される。

()

2 次の地図を見て、各問いに答えなさい。



(ディルグ世界地図 2010 年版ほかより)

(1) イスラム教の分布を示すものを、地図中のア～エから一つ選び、記号で答えなさい。

()

(3) 1世紀初めごろに開かれ、現在では世界で最も多くの人が信仰しているとされる、クリスマスなどの行事がある宗教を答えなさい。

()