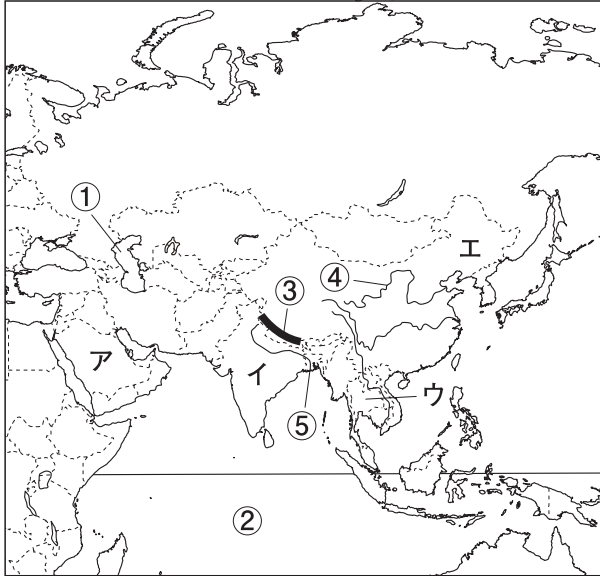


社会

アジア州

1 次の地図を見て、各問いに答えなさい。



(1) 地図中の①～⑤にあてはまる湖・海洋・山脈・河川名を答えなさい。

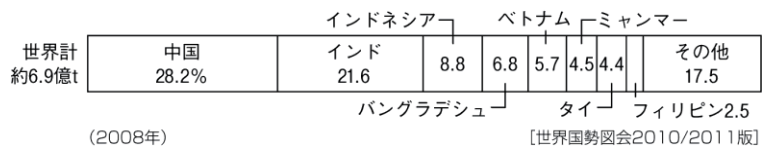
- ① ()
- ② () 洋
- ③ () 山脈
- ④ ()
- ⑤ () 川

(2) 次のA～Dの文は、地図中のア～エの国を説明したものです。各文にあてはまる国をそれぞれ一つずつ選び、記号で答えなさい。

- A 首都はバンコクである。 ()
- B 人口が世界一(2009年)である。 ()
- C 世界有数の石油産出国である。 ()
- D 国民の約8割(2010年)がヒンドゥー教を信仰している。 ()

2 次の各問いに答えなさい。

(1) 右のグラフは、アジア州で生産の盛んなある農作物の国別生産量割合を示しています。その農作物を下のア～エから一つ選び、記号で答えなさい。



ア 米 イ 小麦 ウ だいた エ とうもろこし ()

(2) 右のグラフで、中国の生産量は約何tですか。最も近い数値を下のア～エから一つ選び、記号で答えなさい。

ア 0.5億t イ 2億t ウ 4億t エ 6億t ()

(3) 東南アジアの10か国が加盟している地域連合の名称を、アルファベットの略称で答えなさい。

()

組 番 名前

かかった時間 正解数

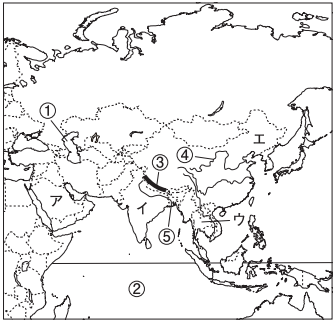
分

- 1** (1) ① カスピ海 ② インド (洋) ③ ヒマラヤ (山脈)
 ④ 黄河〔ホワンホー〕 ⑤ ガンジス (川)
 (2) A ウ B エ C ア D イ

- 2** (1) ア (2) イ (3) ASEAN

間違った問題を確認してみよう！

1 次の地図を見て、各問いに答えなさい。



(1) 地図中の①～⑤にあてはまる湖・海洋・山脈・河川名を答えなさい。

① ()
 ② () 洋
 ③ () 山脈
 ④ ()
 ⑤ () 川

(2) 次のA～Dの文は、地図中のア～エの国を説明したものです。各文にあてはまる国をそれぞれ一つずつ選び、記号で答えなさい。

A 首都はバンコクである。 ()
 B 人口が世界一(2009年)である。 ()
 C 世界有数の石油産出国である。 ()
 D 国民の約8割(2010年)がヒンドゥー教を信仰している。 ()

2 次の各問いに答えなさい。

(1) 右のグラフは、アジア州で生産の盛んなある農作物の国別生産量割合を示しています。その農作物を下のア～エから一つ選び、記号で答えなさい。

世界計 約6.9億t	中国 28.2%	インド 21.6	インドネシア 8.8	バングラデシュ 6.8	ベトナム 5.7	ミャンマー 4.5	フィリピン 4.4	その他 17.5
---------------	-------------	-------------	---------------	----------------	-------------	--------------	--------------	-------------

(2008年) 【世界農林産物生産量2010/2011版】

ア 米 イ 小麦 ウ だいたず エ とうもろこし ()

(2) 右のグラフで、中国の生産量は約何tですか。最も近い数値を下のア～エから一つ選び、記号で答えなさい。

ア 0.5億t イ 2億t ウ 4億t エ 6億t ()

(3) 東南アジアの10か国が加盟している地域連合の名称を、アルファベットの略称で答えなさい。

()