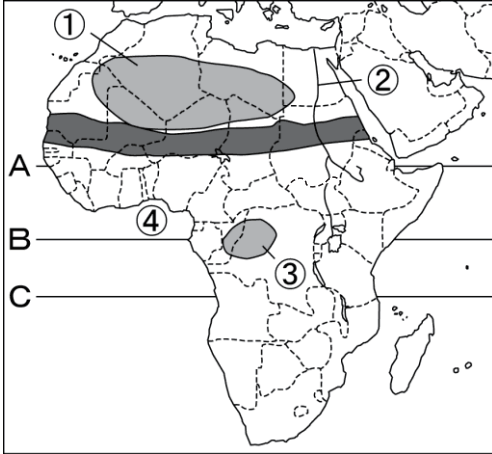


社会

アフリカ州

1 次の地図を見て、各問いに答えなさい。



(1) 地図中の①～④にあてはまる砂漠・河川・盆地・湾の名を答えなさい。

- ① () 砂漠)
- ② () 川)
- ③ () 盆地)
- ④ () 湾)

(2) 地図中のA～Cの緯線のうち、赤道を選び、記号で答えなさい。

()

(3) 地図中の [] の地域の気候帯を下のア～エから一つ選び、記号で答えなさい。

- ア 熱帯 イ 温帯 ウ 乾燥帯 エ 冷帯 (亜寒帯)

()

2 地図やグラフを見て、各問いに答えなさい。

(1) 右の地図中のA～Cの鉱産資源にあてはまるものを、次の [] からそれぞれ選んで答えなさい。

ダイヤモンド, 石油, 銅

- A ()
- B ()
- C ()

(2) ニッケルやクロムなど、埋蔵量が少なく手に入れるのが難しい金属のことを何というか、答えなさい。

()

(3) 右のグラフはチョコレートの原料となる農産物の国別生産量の割合を示しています。Dにあてはまるものを、次のア～ウから一つ選び、記号で答えなさい。

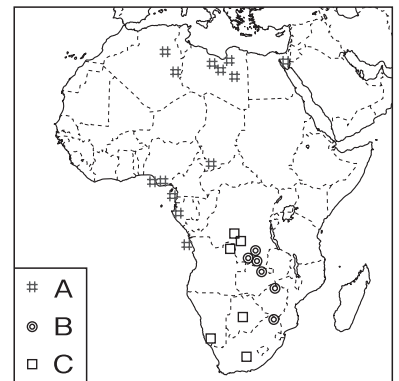
- ア バナナ イ 茶 ウ カカオ豆

()

(4) アフリカなどにみられる、植民地時代につくられおもに輸出用の農作物をつくる大規模な農園を、何というか、答えなさい。


()

アフリカのおもな鉱産資源



[ディルケ世界地図 2008年版]

D の生産 (2008年)



[世界国勢図会2010/2011版]

組 番 名前

かかった時間 正解数

分

