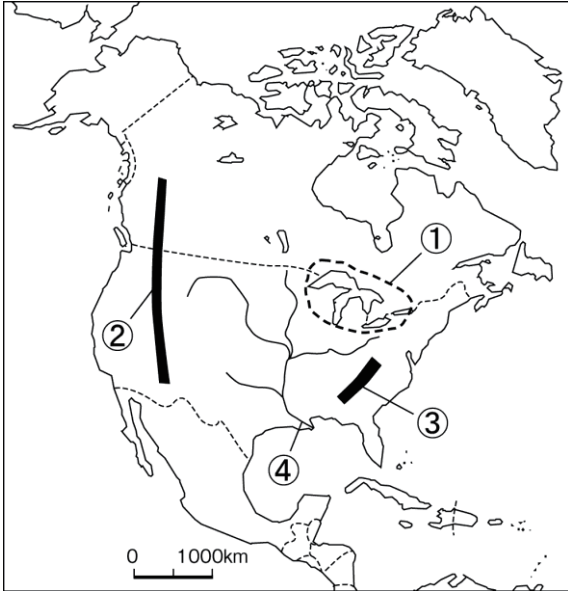


社会

北アメリカ州

1 次の地図を見て、各問いに答えなさい。



(1) 地図中の①～④にあてはまる湖・山脈・河川名を答えなさい。

- ① () 湖)
- ② () 山脈)
- ③ () 山脈)
- ④ () 川)

(2) カナダなどにみられる、夏が短く冬の寒さがきびしい気候帯を何というか、答えなさい。
()

2 アメリカ合衆国の農業について、右の地図を見て、各問いに答えなさい。

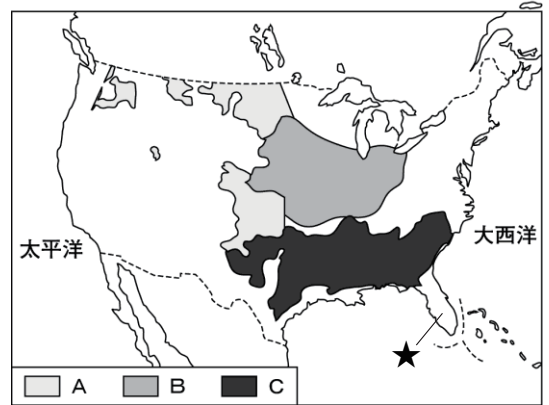
(1) 右の地図中のA～Cの地域で生産が盛んなものを、次の□からそれぞれ選んで答えなさい。

小麦, 綿花, とうもろこし

- A ()
- B ()
- C ()

(2) 温暖な気候を利用した果実栽培がさかんな、地図中の★の半島を何というか、答えなさい。
() 半島)

アメリカ合衆国のおもな農業



3 次の各問いに答えなさい。

(1) アメリカ合衆国で工業が盛んな、北緯37度よりも南の地域の名称を、カタカナで答えなさい。
()

(2) 科学や工業などの分野で世界をリードするアメリカ合衆国には、外国に進出し、世界中の経済や人々の生活に影響をあたえる企業がたくさんあります。このような企業を何というか、答えなさい。
()

組 番 名前

かかった時間 正解数

分

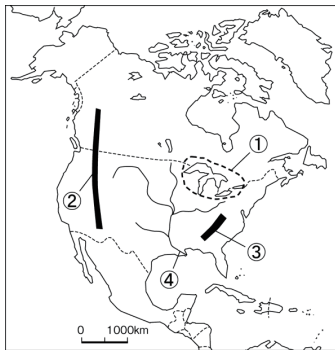
- 1** (1)① 五大（湖） ② ロッキー（山脈）
 ③ アパラチア（山脈） ④ ミシシッピ（川）
 (2) 冷帯〔^{あかんたい}亜寒帯〕

- 2** (1) A 小麦 B とうもろこし C 綿花
 (2) フロリダ（半島）

- 3** (1) サンベルト (2) ^{たこくせき}多国籍企業

間違っ問題を確認してみよう！

1 次の地図を見て、各問いに答えなさい。



(1) 地図中の①～④にあてはまる湖・山脈・河川名を答えなさい。

① () 湖)
 ② () 山脈)
 ③ () 山脈)
 ④ () 川)

(2) カナダなどにみられる、夏が短く冬の寒さがきびしい気候帯を何というか、答えなさい。
 ()

2 アメリカ合衆国の農業について、右の地図を見て、各問いに答えなさい。

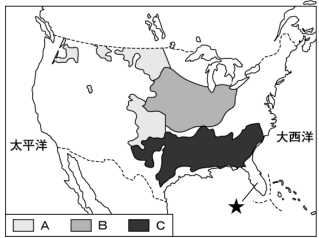
(1) 右の地図中のA～Cの地域で生産が盛んなものを、次の□からそれぞれ選んで答えなさい。

□ 小麦, 綿花, とうもろこし

A ())
 B ())
 C ())

(2) ^{おんだん}温暖な気候を利用した^{さいばい}果実栽培がさかんな、地図中の★の半島を何というか、答えなさい。
 () 半島)

アメリカ合衆国のおもな農業



3 次の各問いに答えなさい。

(1) アメリカ合衆国で工業が盛んな、北緯37度よりも南の地域の名称を、カタカナで答えなさい。
 ()

(2) 科学や工業などの分野で世界をリードするアメリカ合衆国には、外国に進出し、世界中の^{けいざい}経済や人々の生活に影響をあたえる^{きぎょう}企業がたくさんあります。このような企業を何というか、答えなさい。
 ()