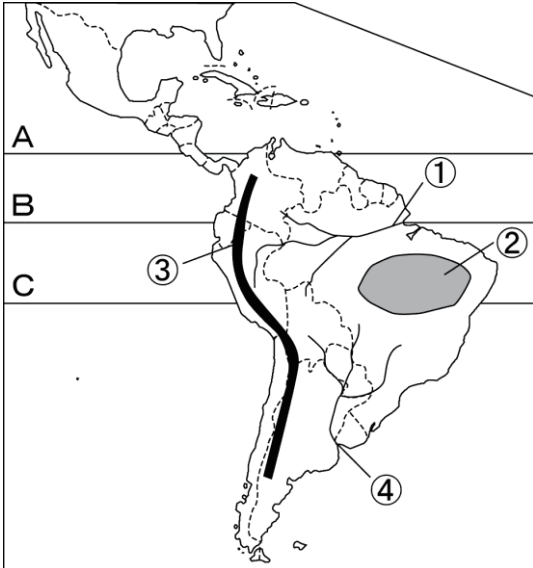


社会

南アメリカ州

1 次の地図を見て、各問いに答えなさい。



(1) 地図中の①～④にあてはまる河川・高原・山脈名を答えなさい。

- ① ( ) 川
- ② ( ) 高原
- ③ ( ) 山脈
- ④ ( ) 川

(2) 地図中の①の川の流域など、気温が高く雨が 많이地域に広がる、1年中緑の葉をつける樹林を何というか、答えなさい。

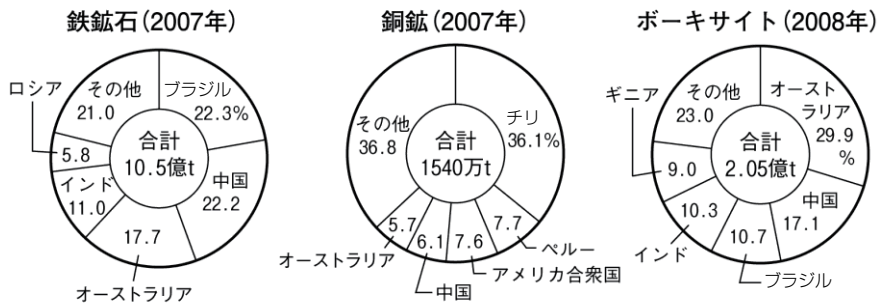
( )

(3) 地図中のA～Cの緯線のうち、赤道を選び、記号で答えなさい。

( )

2 次のグラフを見て、各問いに答えなさい。

おもな鉱産資源の国別産出量割合



[世界国勢図会2010/2011版]

(1) 上のグラフで、南アメリカ州の国の産出量割合が全体の40%を超えている鉱産資源を答えなさい。ただし、「その他」はふくみません。

( )

(2) 上のグラフで、南アメリカ州の国の鉄鉱石の産出量は約何tですか。最も近い数値を次のア～エから一つ選び、記号で答えなさい。ただし、「その他」はふくみません。

- ア 1億t      イ 2億t      ウ 3億t      エ 4億t

( )

(3) コーヒー豆の生産が盛んで、世界有数のコーヒー豆の輸出国である国を、上のグラフ中から選んで答えなさい。

( )

(4) 森林や草原などを焼き、その灰を肥料にして作物をつくる伝統的な農業を何というか、答えなさい。

( ) 農業

組 番 名前

かかった時間 正解数

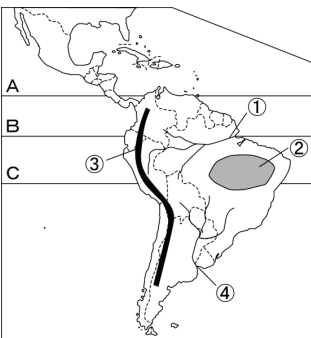
分

- 1** (1) ① アマゾン (川)      ② ブラジル (高原)  
 ③ アンデス (山脈)      ④ ラプラタ (川)  
 (2) 熱帯林 [熱帯雨林]      (3) B

- 2** (1) 銅鉱 (2) イ  
 (3) ブラジル (4) 焼畑 (農業)

間違った問題を確認してみよう！

**1** 次の地図を見て、各問いに答えなさい。



(1) 地図中の①～④にあてはまる河川・高原・山脈名を答えなさい。  
 ① ( ) 川  
 ② ( ) 高原  
 ③ ( ) 山脈  
 ④ ( ) 川

(2) 地図中の①の川の流域など、気温が高く雨が多い地域に広がる、1年中緑の葉をつける樹林を何というか、答えなさい。  
 ( )

(3) 地図中のA～Cの緯線のうち、赤道を選び、記号で答えなさい。  
 ( )

**2** 次のグラフを見て、各問いに答えなさい。

おもな鉱産資源の国別産出量割合

資源	年	国	産出量 (億t)	割合 (%)
鉄鉱石	2007	ブラジル	22.2	22.3%
		中国	22.2	
		ロシア	5.8	
		インド	11.0	
		オーストラリア	17.7	
		その他	21.0	
合計		10.5		
銅鉱	2007	チリ	7.7	36.1%
		その他	36.8	
		オーストラリア	5.7	
		中国	7.6	
		アメリカ合衆国	7.7	
		ペルー	7.7	
合計		15.4		
ボーキサイト	2008	オーストラリア	17.1	29.9%
		中国	10.3	
		インド	10.3	
		その他	9.0	
		ギニア	23.0	
		合計		2.05

(1) 上のグラフで、南アメリカ州の国の産出量割合が全体の40%を超えている鉱産資源を答えなさい。ただし、「その他」はふくみません。  
 ( )

(2) 上のグラフで、南アメリカ州の国の鉄鉱石の産出量は約何tですか。最も近い数値を次のア～エから一つ選び、記号で答えなさい。ただし、「その他」はふくみません。  
 ア 1億t    イ 2億t    ウ 3億t    エ 4億t  
 ( )

(3) コーヒー豆の生産が盛んで、世界有数のコーヒー豆の輸出国である国を、上のグラフ中から選んで答えなさい。  
 ( )

(4) 森林や草原などを焼き、その灰を肥料にして作物をつくる伝統的な農業を何というか、答えなさい。  
 ( ) 農業)