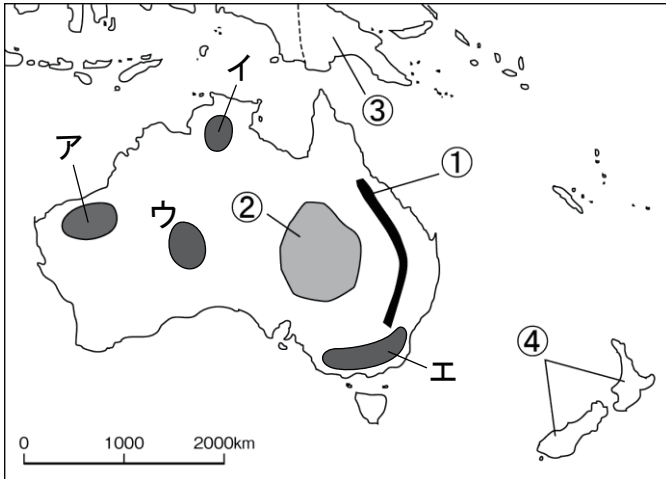


社会

オセアニア州

1 次の地図を見て、各問いに答えなさい。



(1) 地図中の①～④にあてはまる山脈・盆地・国名を答えなさい。

- ① () 山脈)
- ② () 盆地)
- ③ ()
- ④ ()

(2) オーストラリア大陸の内陸部に広がる気候帯は何か、答えなさい。

()

(3) ②の盆地などで放牧が盛んな乾燥に強い家畜は何か、答えなさい。

()

(4) オセアニア最大の都市シドニーなど、オーストラリアで人口が特に多い都市が集まっている地域を、地図中のア～エから一つ選び、記号で答えなさい。

()


2 右のグラフを見て、各問いに答えなさい。

(1) 次の文中の【 】の中で、正しいものをそれぞれ選んで答えなさい。

オーストラリアの貿易相手国をみると、オーストラリアが【① イギリス ・ フランス ・ アメリカ合衆国】から独立したため、かつては【①】とのつながりが強かったが、近年は日本、中国、韓国などの【② アフリカ ・ ヨーロッパ ・ アジア】の国々が上位を占めている。

- ① ()
- ② ()

オーストラリアの貿易相手国の変化



(2) 現在のオーストラリアの貿易で、おもな輸出品目にあてはまらないものを、次のア～エから一つ選び、記号で答えなさい。

- ア 機械類
- イ 米
- ウ 肉類
- エ 鉄鉱石

()

組 番 名前

かかった時間 正解数

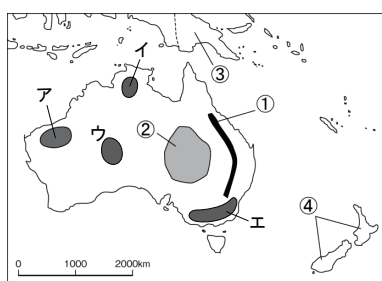
分

- 1** (1)① グレートディバイディング (山脈) ② グレートアーテジアン [大鑽井] (盆地) ^{だいさんせい}
 ③ パプアニューギニア ④ ニュージーランド
 (2) 乾燥帯 (3) 羊 (4) エ

- 2** (1)① イギリス ② アジア
 (2) イ

間違っただ問題を確認してみよう！

1 次の地図を見て、各問いに答えなさい。



(1) 地図中の①~④にあてはまる山脈・盆地・国名を答えなさい。

- ① (山脈)
- ② (盆地)
- ③ ()
- ④ ()

(2) オーストラリア大陸の内陸部に広がる気候帯は何か、答えなさい。

()

(3) ②の盆地などで放牧が盛んな乾燥に強い家畜は何か、答えなさい。

()


(4) オセアニア最大の都市シドニーなど、オーストラリアで人口が特に多い都市が集まっている地域を、地図中のア~エから一つ選び、記号で答えなさい。

()

2 右のグラフを見て、各問いに答えなさい。

(1) 次の文中の【 】の中で、正しいものをそれぞれ選んで答えなさい。

オーストラリアの貿易相手国の変化



オーストラリアの貿易相手国をみると、オーストラリアが【① イギリス ・ フランス ・ アメリカ合衆国】から独立したため、かつては【①】とのつながりが強かったが、近年は日本、中国、韓国などの【② アフリカ ・ ヨーロッパ ・ アジア】の国々が上位を占めている。

- ① () ② ()

(2) 現在のオーストラリアの貿易で、おもな輸出品目にあてはまらないものを、次のア~エから一つ選び、記号で答えなさい。

- ア 機械類 イ 米 ウ 肉類 エ 鉄鉱石

()