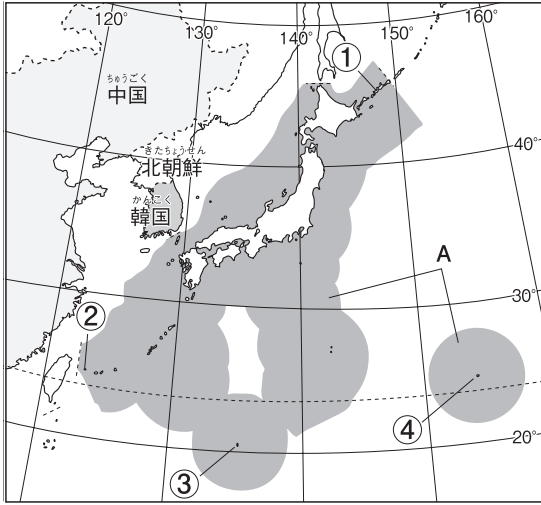


日本のすがた

1 次の地図を見て、各問いに答えなさい。



(1) 地図中のAは、領土の海岸線から200海里の範囲で、この範囲では、日本だけが漁をしたり鉱産資源をとったりできます。Aから領海をのぞいた範囲を、何といいますか。 ()

(2) 地図中の①～④は、次の島々を示しています。この①～④にあてはまるものを、下のア～カからそれぞれ一つずつ選び、記号で答えなさい

- | | | |
|-----------|-----------|--------|
| ① 日本の北端の島 | ② 日本の西端の島 | |
| ③ 日本の南端の島 | ④ 日本の東端の島 | |
| ア 色丹島 | イ 国後島 | ウ 与那国島 |
| エ 沖ノ鳥島 | オ 南鳥島 | カ 択捉島 |

① () ② () ③ () ④ ()

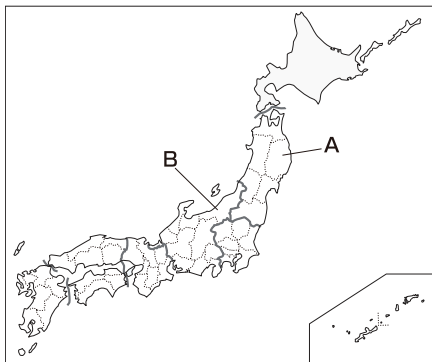
(3) 日本の東の端と西の端では、日の入りの時刻はどちらが早いですか。日の入りの時刻の早いほうを答えなさい。

()

(4) 日本は、海岸線から何海里の範囲を領海としていますか。

()

2 次の地図を見て、各問いに答えなさい。



(1) 地図中のA・Bの地方名を、次の〔 〕からそれぞれ選んで、答えなさい。

- | | | |
|---------|------|------|
| 〔 北海道地方 | 東北地方 | 関東地方 |
| 中部地方 | 近畿地方 | 九州地方 |

A ()

B ()

(2) 道県と道県庁所在地の組み合わせとして正しいものを、次のア～オから二つ選び、記号で答えなさい。

- | | | |
|-----------|------------|-----------|
| ア 兵庫県—神戸市 | イ 茨城県—宇都宮市 | ウ 群馬県—水戸市 |
| エ 北海道—札幌市 | オ 山梨県—盛岡市 | |

() ()

組 番 名前

かかった時間 正解数

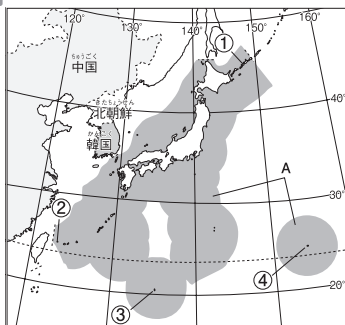
分

- 1** (1) 〔^{はいた}排他的〕経済水域 (2) ① カ ② ウ ③ エ ④ オ
 (3) 東の端 (4) 12 海里

- 2** (1) A 東北地方 B 中部地方 (2) ア・エ (順不同)

間違った問題を確認してみよう！

1 次の地図を見て、各問いに答えなさい。



(1) 地図中のAは、領土の海岸線から200海里の範囲で、この範囲では、日本だけが漁をしたり鉱産資源をとったりできます。Aから領海をのぞいた範囲を、何といえますか。 ()

(2) 地図中の①～④は、次の島々を示しています。この①～④にあてはまるものを、下のア～カからそれぞれ一つずつ選び、記号で答えなさい

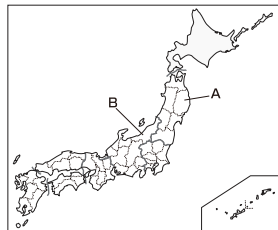
- ① 日本の北端の島 ② 日本の西端の島
 ③ 日本の南端の島 ④ 日本の東端の島
 ア 色丹島 イ 国後島 ウ 与那国島
 エ 沖ノ鳥島 オ 南鳥島 カ 択捉島

① () ② () ③ () ④ ()

(3) 日本の東の端と西の端では、日の入りの時刻はどちらが早いですか。日の入りの時刻の早いほうを答えなさい。 ()

(4) 日本は、海岸線から何海里の範囲を領海としていますか。 ()

2 次の地図を見て、各問いに答えなさい。



(1) 地図中のA・Bの地方名を、次の〔 〕からそれぞれ選んで、答えなさい。

- 〔 北海道地方 東北地方 関東地方 〕
 〔 中部地方 近畿地方 九州地方 〕

A ()

B ()

(2) 道県と道県庁所在地の組み合わせとして正しいものを、次のア～オから二つ選び、記号で答えなさい。

- ア 兵庫県—神戸市 イ 茨城県—宇都宮市 ウ 群馬県—水戸市
 エ 北海道—札幌市 オ 山梨県—盛岡市

() ()