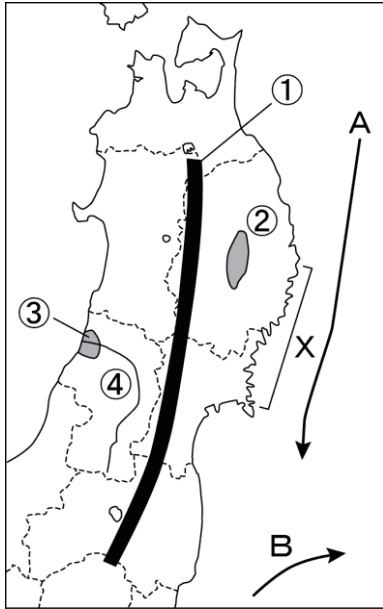


1 次の地図を見て、各問いに答えなさい。



(1) 地図中の①～④にあてはまる山脈・盆地・平野・河川名を答えなさい。

- ① () () 山脈)
- ② () () 盆地)
- ③ () () 平野)
- ④ () () 川)

(2) 地図中のA・Bの海流名を答えなさい。また、その海流が暖流ならア、寒流ならイを記入しなさい。

- A () ()
- B () ()

(3) 地図中のXの三陸海岸南部にみられる、複雑な形をした海岸を何というか、答えなさい。

() 海岸)

(4) 初夏のころ東北地方の太平洋側に吹く、冷たい北東風を何というか、答えなさい。

()

(5) (4)の風の影響による異常低温のために農作物に被害がおよぶような自然災害を何というか、答えなさい。

()

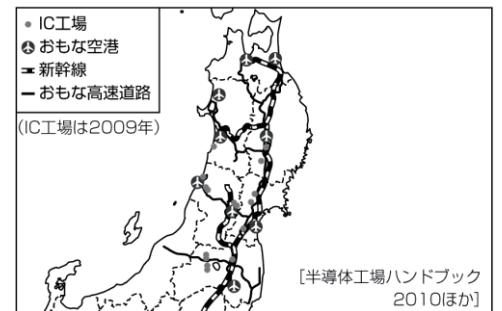
2 次の各問いに答えなさい。

(1) 東北地方のIC工場はどのようなところに多く分布しているか、右の資料を見て、あてはまるものを次のア～ウから一つ選び、記号で答えなさい。

()

- ア 原料や製品の輸出入に便利な沿岸地域
- イ 高速道路や空港の近くなど交通の便利な地域
- ウ 消費地である大都市の近郊


東北地方のおもな交通とIC工場の分布



(2) 右のア・イの都道府県別生産量のグラフが示す農産物を、次の□からそれぞれ選びなさい。

ア () イ ()

米, りんご, ぶどう, じゃがいも



[日本国勢図会2010/2011版]

組 番 名前

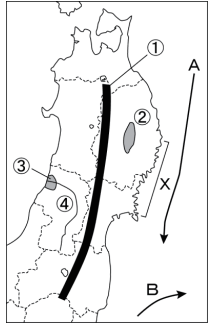
かかった時間 正解数

分

- 1** (1) ① 奥羽 (山脈) ② 北上 (盆地) ③ 庄内 (平野) ④ 最上 (川)
 (2) A 親潮 [千島海流], イ
 B 黒潮 [日本海流], ア
 (3) リアス [リアス式] (海岸) (4) やませ (5) 冷害
- 2** (1) イ (2) ア 米 イ りんご

間違った問題を確認してみよう!

1 次の地図を見て、各問いに答えなさい。



(1) 地図中の①～④にあてはまる山脈・盆地・平野・河川名を答えなさい。

① () 山脈
 ② () 盆地
 ③ () 平野
 ④ () 川

(2) 地図中のA・Bの海流名を答えなさい。また、その海流が暖流ならア、寒流ならイを記入しなさい。

A () ()
 B () ()

(3) 地図中のXの三陸海岸南部にみられる、複雑な形をした海岸を何というか、答えなさい。

() 海岸

(4) 初夏のころ東北地方の太平洋側に吹く、冷たい北東風を何というか、答えなさい。

()

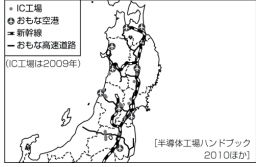
(5) (4)の風の影響による異常低温のために農作物に被害がおよぶような自然災害を何というか、答えなさい。

()

2 次の各問いに答えなさい。

(1) 東北地方のIC工場はどのようなところに多く分布しているか、右の資料を見て、あてはまるものを次のア～ウから一つ選び、記号で答えなさい。

ア 原料や製品の輸出入に便利な沿岸地域
 イ 高速道路や空港の近くなど交通の便利な地域
 ウ 消費地である大都市の近郊

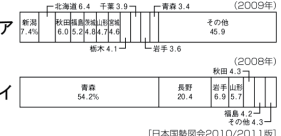


東北地方のおもな交通とIC工場の分布
 (IC工場は2009年)
 [半導体工場ハンドブック 2010ほか]

(2) 右のア・イの都道府県別生産量のグラフが示す農産物を、次の□からそれぞれ選びなさい。

ア () () イ () ()

米, りんご, ぶどう, じゃがいも



ア (2009年) 青森 6.4, 岩手 3.0, 宮城 3.4, 秋田 4.3, 山形 4.9, 福島 4.3, その他 4.3
 イ (2008年) 青森 5.4, 岩手 2.4, 宮城 3.6, 秋田 4.3, 山形 4.3, 福島 4.3, その他 4.3
 [日本国勢調査2010/2011版]