

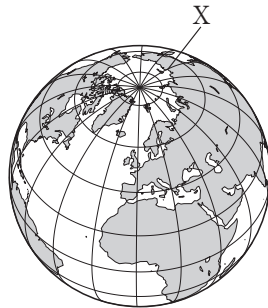
# チャレンジ ワークシート①

組番	月日	正答数 /4
名前		

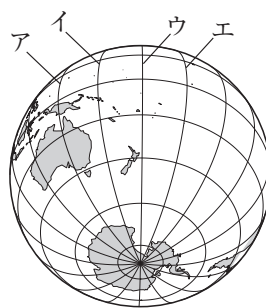
**ねらい** ●いろいろな問題にチャレンジしてさらに力をつける。

- ① 1図は陸半球を示し、2図は水半球を示している。(1)、(2)の問いに答えなさい。(平成23年度 熊本改)

1図




2図



- (1) 1図と2図の両方で見ることができる大陸は、ユーラシア大陸と  大陸である。 に当てはまる語を書きなさい。[                    ]
- (2) 1図のXは東経140度の経線を示したものである。2図のア～エの経線のうち、Xと同じ東経140度を示す経線の一つを選び、記号で答えなさい。[     ]

- ② 次の資料をみて、あとの(1)、(2)の問いに答えなさい。(平成23年度 愛知改)

**【資料】**



左の写真は、僧として唐から日本に渡来した鑑真の像です。鑑真は、日本へ渡ろうとして何度も失敗しましたがあきらめず、ついに日本に渡来して唐招提寺を建立するなど、日本の仏教の発展につくしました。

鑑真が渡来した時期の日本では、大陸との交流が深まり、国際的影響を受けた文化が栄えました。このころの文化は、聖武天皇の時代の年号をとって(                    )文化とよばれています。

- (1) 鑑真が渡来した年代とほぼ同じ時期の日本のできごとについて述べた文として最も適切なものを、次のアからエまでの中から選んで、そのかな符号を書きなさい。[     ]
- ア 朝廷は、人々に開墾をすすめるために、墾田永年私財法を出した。
- イ 中大兄皇子と中臣鎌足が、蘇我氏をたおして新しい政治のしくみをつくる改革を始めた。
- ウ 藤原頼通が、摂政や関白の役職について朝廷の実権をにぎった。
- エ 坂上田村麻呂は、征夷大將軍に任じられて東北地方の蝦夷の反乱をしずめた。
- (2) 資料の文章中の(                    )にあてはまる最も適切なことばを、漢字2字で書きなさい。  
[                    ]

## チャレンジワークシート①

〈答え〉

①

- (1) 南アメリカ
- (2) ア

②

- (1) ア
- (2) 天平てんぴょう

※写真提供：唐招提寺

## ！ポイントアドバイス

①

- (1) 地球の陸地は、六大陸と多くの島々からなる。
- (2) 東経140度の経線は、山形県やまがたや千葉県ちばなど、8道県を通っている。

②

- (1) 鑑真かんじんが日本に渡来とらいしたのは8世紀なかばで、奈良時代ならのできごとである。イは飛鳥時代あすか、ウは平安時代へいあんなかば、エは平安時代初めえいぎょうのできごとである。
- (2) 天平文化は、唐とうや西アジアなどの影響えいぎょうを受けた、奈良時代の国際的な文化である。この文化が栄えたころに聖武天皇しゅうむは、国分寺こくぶんじや東大寺大仏とうだいぶつなどをつくり、仏教も発展した。

# チャレンジ ワークシート②

組番	月日	正答数 /4
名前		

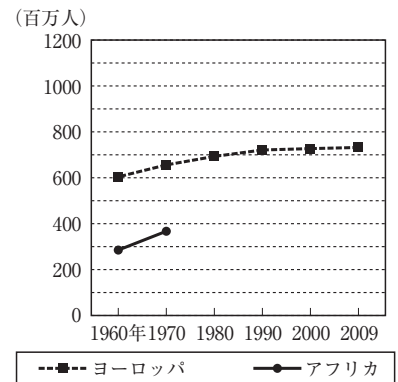
**ねらい** ●いろいろな問題にチャレンジしてさらに力をつける。

- ① 表は、アフリカ州とヨーロッパ州の人口の推移を示したものである。なお、ヨーロッパ州にはロシア連邦を含むものとする。(1)、(2)の問いに答えなさい。  
(平成23年度 熊本改)

州	人口(百万人)					
	1960年	1970年	1980年	1990年	2000年	2009年
アフリカ	285	367	482	639	819	1010
ヨーロッパ	604	656	693	721	727	732

(「総務省 世界の統計2010」による)

- (1) 表をもとに、右のアフリカ州の人口のグラフを完成させなさい。また、表と完成させたグラフにもとづいて、アフリカ州の人口が、1960年から2009年にかけてどのように変化したか、ヨーロッパ州の人口の変化と比較して書きなさい。



- (2) 写真は、アフリカ州のある発展途上国で砂漠化が進行しているようすである。このように砂漠化が進行している理由として考えられることを、アフリカ州の人口の変化に着目して、説明しなさい。



- ② 次の問いに答えなさい。(平成23年度 長崎改)

資料A 群馬県から出土したもの



資料B 和同開珎



- (1) 資料Aについて、縄文時代の遺跡からは、このような土でつくられたものが多数発掘されている。これを何というか。〔 〕
- (2) 表は、資料Bがつけられたころの筑前国(現在の福岡県の一部)の戸籍をもとに作成したものである。表に記された9人のうち、口分田が与えられるのは何人か。〔 〕

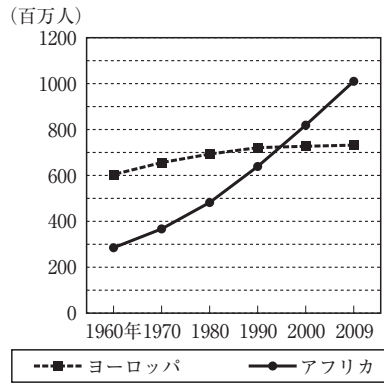
性別	男	女	女	男	男	女	女	男	女
おんれい(年齢)	(46歳)	(37歳)	(18歳)	(17歳)	(16歳)	(13歳)	(9歳)	(2歳)	(1歳)

## チャレンジワークシート②

〈答え〉

①

(1)



(例) 急速に増加した。

(2) (例) 急速な人口の増加により、多くの食料が必要となり、過度の耕作や放牧が行われたから。

②

(1) 土偶

(2) 7(人)

※写真提供：AFP／東京国立博物館蔵 Image：TNM Image Archives／みずほ銀行

## ！ポイントアドバイス

①

(1) アフリカ州の発展途上国では、急速に人口が増加する人口爆発が起きている。そのため、アフリカ州の人口は、人口がゆるやかに増加しているヨーロッパ州を1990年代に追いぬいた。

(2) アフリカ州では、土地を休ませずに耕作や放牧を続けるなどして、急速な人口の増加への対応が行われている。

②

(1) 資料Aの土偶は縄文時代の遺物で、まよけや食物の豊かさをいのるために使われたと考えられている。

(2) 資料Bの和同開珎は、708年に初めて発行された。このころ、班田収授法にもとづいて、6歳以上の男女に口分田があたえられた。